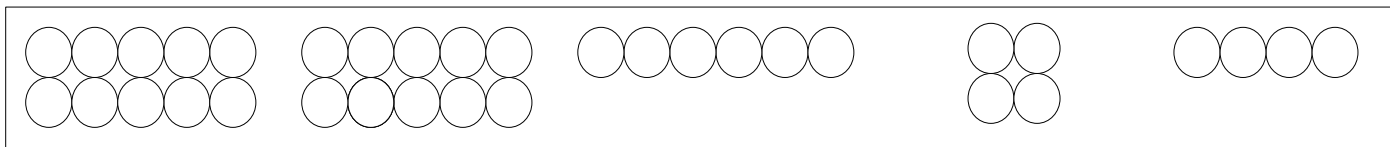


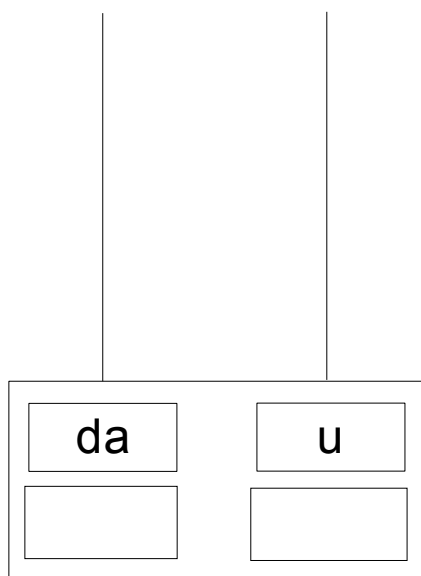
--

CONTA TUTTE QUESTE PERLINE



□

METTI LE PERLINE NELL'ABACO



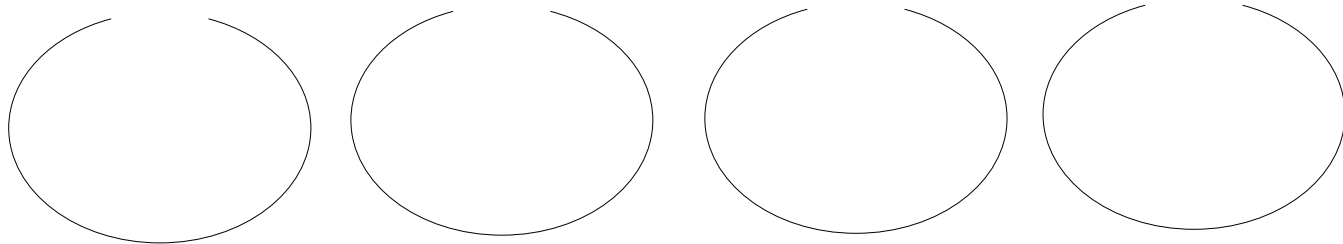
RICOMPONI IL NUMERO

da + u

$$\square + \square = \square$$

--

ORA METTI LE PERLINE NEI FILI(OGNI FILO DEVE AVERE 10 PERLINE)



QUANTI BRACCIALETTI HAI COSTRUITO ?

--

BRACCIALETTI

QUANTE PERLINE TI SONO RIMASTE ?

PERLINE